



**Semana 9 al 13 de noviembre**

**Clase Jueves**

<b>Curso</b>	Primero año A		semana 30
<b>OA 8</b> <b>OA9</b>	Reconocer que son los mapas y planos son forma de representar lugares . Identificar a Chile en mapas, incluyendo la cordillera de los Andes, el océano Pacífico, su región, su capital y su localidad.		
<b>Objetivo de la clase</b>	Identificar características del entorno utilizando mapas		
<b>Actitudinal</b>	Participar solidaria y responsablemente en las actividades y proyectos del establecimiento y espacio comunitario demostrando espíritu emprendedor .		
<b>Contenidos</b>	Localizan y colorean Chile en un mapamundi. Ubican y colorean la cordillera de los Andes y el océano Pacífico en un mapa de Chile. Identifican, guiados por el docente, hitos de su entorno.		
<b>Recursos</b>	Computador, internet. Cuaderno de asignatura, libro de asignatura y lápiz.		

# Normas para la clase virtual



**M**antener tu micrófono en silencio.

**P**oner atención cuando la profesora explica.



**U**tilizar el chat para tus dudas o preguntas.




**L**evantar tu mano para hablar.



**R**espetar tu turno y el de tus compañeros.



Registra el objetivo en tu cuaderno



## OBJETIVO :

**Identificar** características del entorno utilizando mapas

*“**R**ecuerda tener disponible todo lo necesario para comenzar la clase: Cuaderno, texto de estudio, lápiz y goma”*






# Ruta de aprendizaje



“Recuerda realizar todos los pasos de la ruta de aprendizaje para poder cumplir el objetivo”



# TICKET DE ENTRADA

<p>OA17: Usar un lenguaje cotidiano para secuenciar eventos en el tiempo</p>	<p>Ticket de salida pág. 86</p> <p>¿Qué día de la semana es hoy?</p> <hr/> <p>¿En qué mes estamos?</p> <hr/>
<p>OA 16 Usar unidades no estandarizadas de tiempo para comparar eventos cotidianos.</p>	<p>Ticket de salida pág. 87</p> <p><b>¿Cuánto tiempo?</b></p>  <p>Mucho tiempo      Poco tiempo</p>

# Pregunta

7.-Observa la imagen :¿A la izquierda de Chile está ?



- A. Cordillera
- B. Océano pacífico
- C. Perú

# Pregunta

12.- Observa la imagen: ¿Qué mapa es ?




- A. Mapa de America
- B. Mapa de Chile
- C. Mapamundi





¡Vamos a la tarea!



# Ticket de Salida

¿Qué país representa el mapa?



Al terminar deberas enviar la tarea a mi correo [Katherine . Bakx @colegio-mansodevelasco.cl](mailto:Katherine.Bakx@colegio-mansodevelasco.cl) o imágenes de tu cuaderno a mi teléfono, el plazo de entrega el 13 de octubre



## ¡Autoevaluación

Ahora autoevalúate con respecto al trabajo de hoy una con una línea como sentiste

- 1.- Logré desarrollar las actividades.
- 2.- Me faltó tiempo para terminar.
- 3.- Reconozco lo que es un mapa.

